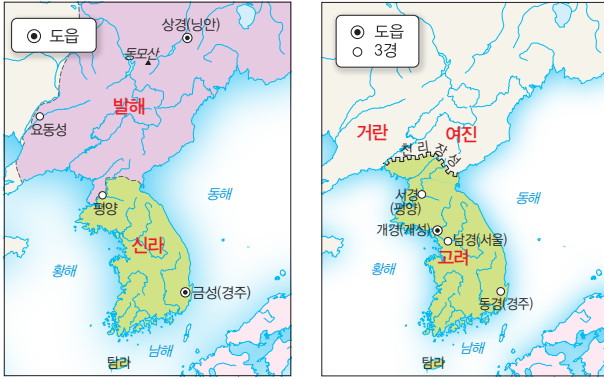


## 서술형·논술형 문제

21 다음 지도를 보고, 물음에 답하시오.



▲ 신라와 발해

▲ 고려

(1) 위 지도를 보고, 신라의 북쪽에는 발해가 있는데, 고려의 북쪽에는 발해가 없는 까닭을 쓰시오.

---



---

(2) 위 지도와 관련된 후삼국 통일의 의의를 쓰시오.

---



---

22 다음은 태조 왕건의 정책을 인터넷에서 검색한 것입니다. 밑줄 친 정책을 추진한 까닭을 쓰시오.

태조 왕건의 정책

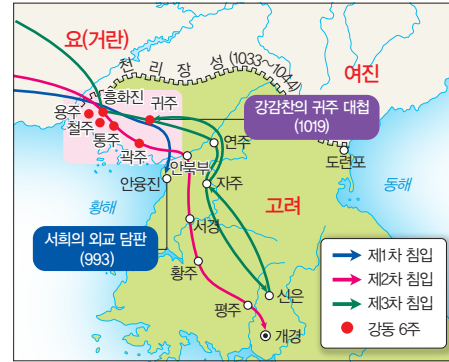
- 세금 정책으로 백성들의 생활을 안정시키려고 하였다.
- 서경(평양)을 중시하였고, 북진 정책을 추진하였다.
- 발해 사람들을 따뜻하게 맞아 주었다.

---



---

23 다음 지도와 같은 침입이 시작된 까닭을 쓰시오.




---



---


24 고려 왕실, 귀족, 지방 호족들이 크기가 크고 대체로 머리 부분이 큰 불상을 만든 까닭을 쓰시오.

---



---

25 문익점이 오른쪽과 같은 식물을 원으로부터 가져와 재배하여 나타난 결과를 쓰시오.




---



---